

# Devenir professionnel des diplômés

"Spécialité géomètre et topographe" (ING0100)

le cnam

Décembre 2017

## Données de cadrage

Diplômés en **2013, 2014 et 2015**

Nombre de CCR : **1**

Total diplômés : **203**

Total répondants : **138**

Taux de réponse : **68%**

Répartition hommes / femmes : **72% / 28%**

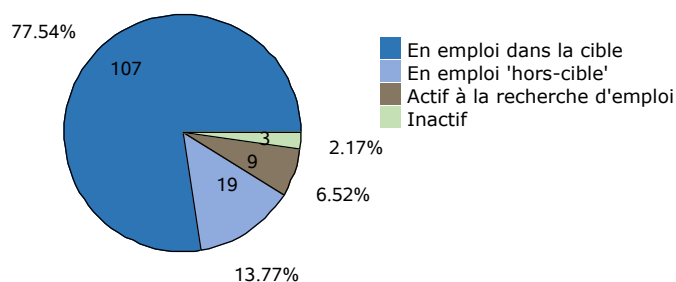
Âge moyen à l'obtention du diplôme : **23,9 ans**  
(écart type : 1,7 ans)

Âge médian à l'obtention du diplôme : **23,0 ans**

Situation professionnelle au moment de l'enquête (entre 2 et 3 ans après l'obtention du diplôme)

### Situation professionnelle

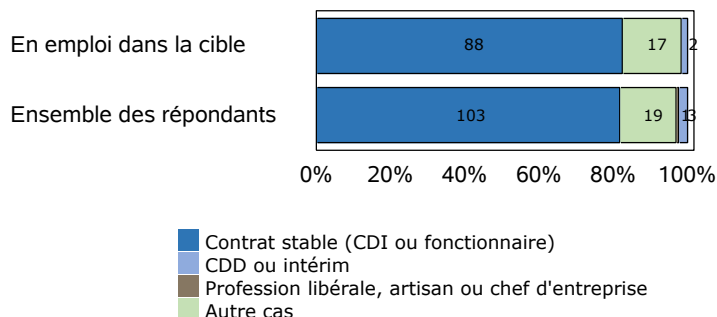
Total de répondants : 138/ 138



### Statut professionnel / type de contrat

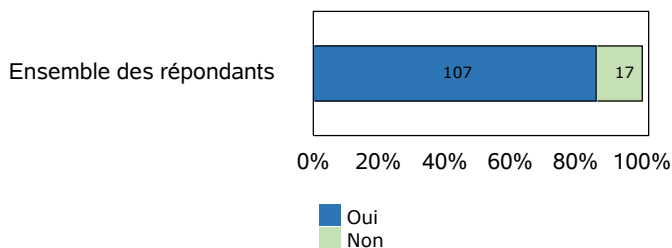
Total de répondants : 126/ 126

Total de répondants dans la cible : 107/ 107



### Adéquation entre formation et emploi

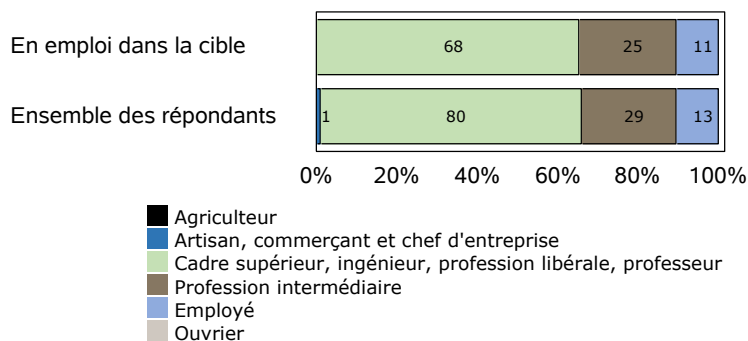
Total de répondants : 124/ 126



### Profession et catégorie socio-professionnelle

Total de répondants : 123/ 126

Total de répondants dans la cible : 104/ 107



### Salaire brut annuel (primes incluses)

Total de répondants : 102/ 126

Total de répondants dans la cible : 87/ 107

	Ensemble des répondants	Répondant dans la cible
Premier quartile	27 000 €	26 900 €
Salaire médian	29 175 €	29 250 €
Troisième quartile	33 000 €	33 000 €
Salaire moyen	29 575 €	29 433 €

### Définitions et clefs de lecture :

Sont considérés "en emploi dans la cible" les diplômés ayant répondu que l'emploi occupé est en adéquation avec le diplôme obtenu.

Sont considérés "en emploi hors-cible" les diplômés ayant répondu que l'emploi occupé n'est pas en adéquation avec le diplôme obtenu.

Un quart (25 %) des répondants gagne moins que le "salaire 1er quartile".

La moitié (50 %) des répondants gagne moins que le "salaire médian".

Trois quarts (75 %) des répondants gagne moins que le "salaire 3ème quartile".

# Liste des professions les plus exercées par les diplômés au moment de l'enquête

"Spécialité géomètre et topographe" (ING0100)

Professions	Effectifs de répondants
Ingénieur géomètre	24
Ingénieur géomètre topographe	15
Technicien géomètre	10
Géomètre expert stagiaire	6
Ingénieur topographe	6
Technicien géomètre topographe	6
Géomètre	5
Chargé d'affaire	2
Géomètre-expert stagiaire	2
Ingénieur d'études	2
Agent de recherche	1
Aide chef de chantier	1

## Note de lecture

Les professions sont classées par ordre décroissant selon le nombre de diplômés déclarant les exercer. En cas d'égalité, les professions sont classées par ordre alphabétique.

Source : Enquêtes de suivi des diplômés - traitement OEC.